

الصف : الأول
الحصة :

المادة / رياضيات
التاريخ / / / ١٤

الاسم:

الموضوع / التهيئة

- ألون الشاحنة بالأصفر والكرة بالأزرق والطائر بالأسود
والوردة بالأحمر



غير مجتازة

متمكنة

متقدمة

متفوقة

غير متقن أقل من ٨٠ %

متقن المعيار من ٨٠% إلى أقل من ٩٠%

متقن المعيار من ٩٠% إلى أقل من ١٠٠%

متقن المعيار ١٠٠%


معلم/ة المادة/.....

الصف : الأول
الحصة :

المادة / رياضيات
التاريخ / / / ١٤

الموضوع / التصنيف وفق خاصية واحدة الاسم :

أضع  حول الشيء داخل الإطار الذي له نفس الصفة



غير مجتازة

متمكنة

متقدمة

متفوقة

غير متقن أقل من ٨٠ %

متقن المعيار من ٨٠% إلى أقل من ٩٠%

متقن المعيار من ٩٠% إلى أقل من ١٠٠%

متقن المعيار ١٠٠%

معلم/ة المادة/.....

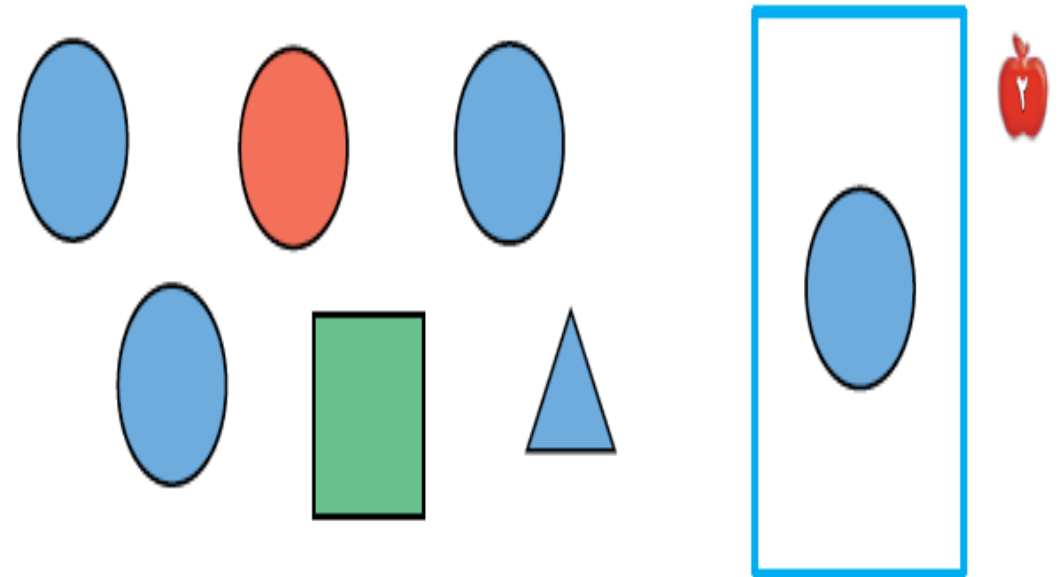
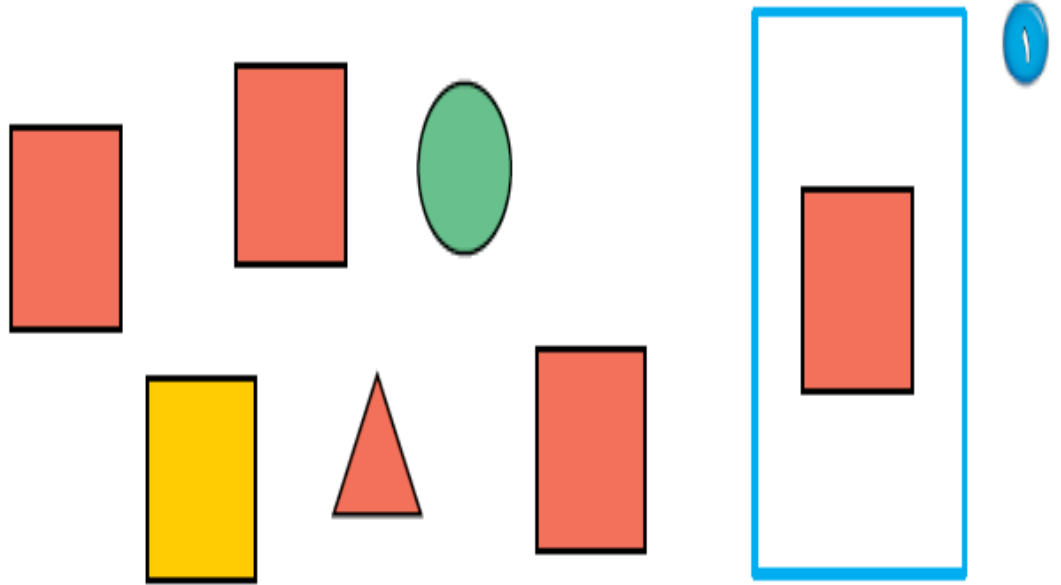
الصف : الأول
الحصة :

المادة / رياضيات
التاريخ / / / ١٤

الاسم :

الموضوع / التصنيف وفق أكثر من خاصية

أضع ○ حول الشكل المماثل و علامة × حول الشكل المختلف



غير مجتازة

ممكنة

متقدمة

متفوقة

غير متقن أقل من ٨٠ %

متقن المعيار من ٨٠% إلى أقل من ٩٠%

متقن المعيار من ٩٠% إلى أقل من ١٠٠%

متقن المعيار ١٠٠%

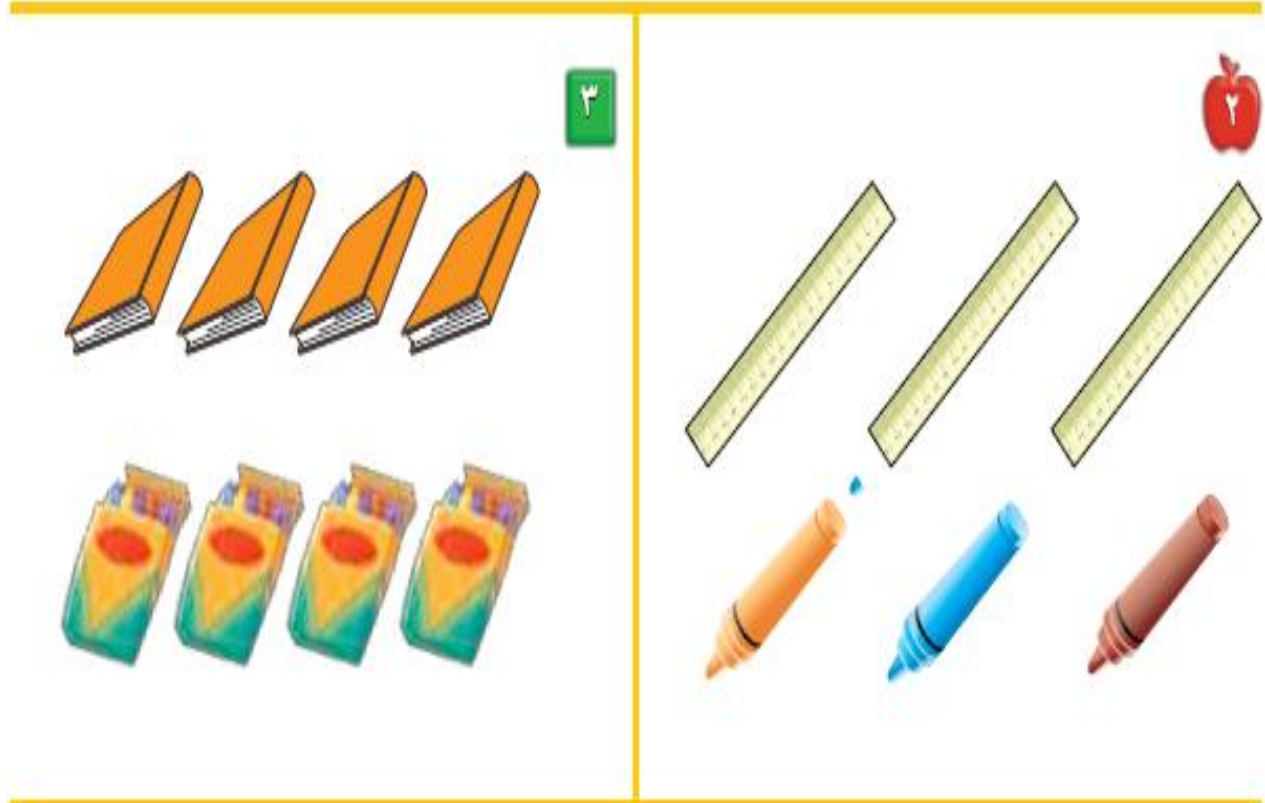
معلمة المادة/.....

الصف : الأول
الحصة :

المادة / رياضيات
التاريخ / / / ١٤

الموضوع / التصنيف وفق أكثر من خاصية (يساوي) الاسم :

أصل بخط بين المجموعتين المتقابلتين



غير مجتازة

متمكنة

متقدمة

متفوقة

غير متقن أقل من ٨٠ %

متقن المعيار من ٨٠% إلى أقل من ٩٠%

متقن المعيار من ٩٠% إلى أقل من ١٠٠%

متقن المعيار ١٠٠%

معلم/ة المادة/.....

الصف : الأول
الحصّة :

المادة / رياضيات
التاريخ / / / ١٤

الاسم :

الموضوع / التصنيف (أكثر من وأقل من)

أصل بخط بين المجموعتين وضع حول المجموعة التي عناصرها أكثر



غير مجتازة

ممكنة

متقدمة

متفوقة

غير متقن أقل من ٨٠ %

متقن المعيار من ٨٠% إلى أقل من ٩٠%

متقن المعيار من ٩٠% إلى أقل من ١٠٠%

متقن المعيار ١٠٠%

معلم/ة المادة/.....











الصف : الأول
الحصّة :

المادة / رياضيات
التاريخ / / / ١٤

الاسم :

الموضوع / الأعداد ١ ، ٢ ، ٣ .

أعد المربعات ثم ألونها

 ٣  ٢  ١	 ٥	 ٤
		
		

غير مجتازة

متمكنة

متقدمة

متفوقة

غير متمن أقل من ٨٠ %

متمن المعيار من ٨٠% إلى أقل من ٩٠%

متمن المعيار من ٩٠% إلى أقل من ١٠٠%

متمن المعيار ١٠٠%

معلم/ة المادة/.....

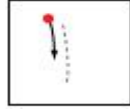
الصف : الأول
الحصة :

المادة / رياضيات
التاريخ / / / ١٤

الاسم :

الموضوع / قراءة الأعداد (١ ، ٢ ، ٣)

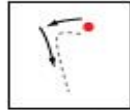
أعد الأشياء وانطق العدد ثم اكتبه ثلاث مرات



واحد



ثلاثة



اثنان



غير مجتازة

متمكنة

متقدمة

متفوقة

غير متقن أقل من ٨٠ %

متقن المعيار من ٨٠% إلى أقل من ٩٠%

متقن المعيار من ٩٠% إلى أقل من ١٠٠%

متقن المعيار ١٠٠%

معلم/ة المادة/.....

الصف : الأول
الحصة :

المادة / رياضيات
التاريخ / / / ١٤

الاسم :

الموضوع / العدان ٤ ، ٥

ارسم ٤ تفاحات على الشجرة الأولى و ٥ تفاحات على الشجرة الثانية



غير مجتازة

متمكنة

متقدمة

متفوقة

غير متقن أقل من ٨٠ %

متقن المعيار من ٨٠% إلى أقل من ٩٠%

متقن المعيار من ٩٠% إلى أقل من ١٠٠%

متقن المعيار ١٠٠%

معلم/ة المادة/.....

الصف : الأول
الحصة :

المادة / رياضيات
التاريخ / / / ١٤

الاسم :

الموضوع / قراءة العدان ٤ ، ٥ وكتابتها

أعد الأشياء وانطق العدد ثم اكتب العدد ثلاث مرات

3

أَرْبَعَةٌ

4

خَمْسَةٌ

5

أَرْبَعَةٌ

6



7



غير مجتازة

متمكنة

متقدمة

متفوقة

غير متقن أقل من ٨٠ %

متقن المعيار من ٨٠% إلى أقل من ٩٠%

متقن المعيار من ٩٠% إلى أقل من ١٠٠%

متقن المعيار ١٠٠%

معلم/ة المادة/.....







الصف : الأول
الحصة :

المادة / رياضيات
التاريخ / / / ١٤

الاسم :

الموضوع / قراءة العدد صفر، وكتابتة

أعد الكرات في كل رسمة وعاء ثم قل العدد واكتبه

غير مجتازة

ممكنة

متقدمة

متفوقة

غير متقن أقل من ٨٠ %

متقن المعيار من ٨٠% إلى أقل من ٩٠%

متقن المعيار من ٩٠% إلى أقل من ١٠٠%

متقن المعيار ١٠٠%

معلم/ة المادة/.....

الصف : الأول
الحصة :

المادة / رياضيات
التاريخ / / / ١٤

الاسم :

الموضوع / الأعداد ٦ ، ٧ ، ٨

أعد الأشياء وقل العدد واستعمل قطع العد الملونة لتمثيل العدد

١



٢



٣



غير مجتازة

ممكنة

متقدمة

متفوقة

غير متقن أقل من ٨٠ %

متقن المعيار من ٨٠% إلى أقل من ٩٠ %

متقن المعيار من ٩٠% إلى أقل من ١٠٠ %

متقن المعيار ١٠٠%

معلم/ة المادة/.....


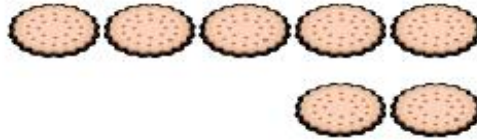
الصف : الأول
الحصة :

المادة / رياضيات
التاريخ / / / ١٤

الاسم :

الموضوع / قراءة الأعداد ٦ ، ٧ ، ٨ وكتابتها

أعد الأشياء وقل العدد ووضح عددها



غير مجتازة

متمكنة

متقدمة

متفوقة

غير متمن أقل من ٨٠ %

متمن المعيار من ٨٠% إلى أقل من ٩٠%

متمن المعيار من ٩٠% إلى أقل من ١٠٠%

متمن المعيار ١٠٠%

معلم/ة المادة/.....

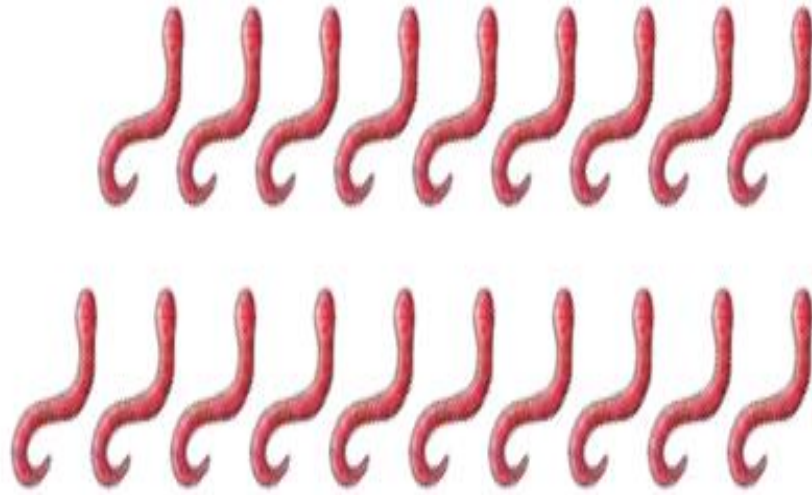
الصف : الأول
الحصة :

المادة / رياضيات
التاريخ / / / ١٤

الاسم :

الموضوع / العَدَدان ٩ ، ١٠

أعد المجموعات ثم قل عددها ثم حوِّط المجموعة التي عدد عناصرها ٩ باللون الأحمر
والمجموعة التي عدد عناصرها ١٠ باللون الأزرق



غير مجتازة

متمكنة

متقدمة

متفوقة

غير متمن أقل من ٨٠ %

متمن المعيار من ٨٠% إلى أقل من ٩٠%

متمن المعيار من ٩٠% إلى أقل من ١٠٠%

متمن المعيار ١٠٠%

معلم/ة المادة/.....

الصف : الأول
الحصة :

المادة / رياضيات
التاريخ / / / ١٤

الاسم :

الموضوع / قراءة العددين ٩ - ١٠

أعد الحيوانات وقل العدد ثم اكتب العدد في المكان المخصص



٣



غير مجتازة

متمكنة

متقدمة

متفوقة

غير متقن أقل من ٨٠ %

متقن المعيار من ٨٠% إلى أقل من ٩٠%

متقن المعيار من ٩٠% إلى أقل من ١٠٠%

متقن المعيار ١٠٠%

معلمة المادة/.....

الصف : الأول
الحصّة :

المادة / رياضيات
التاريخ / / / ١٤

الموضوع / مقارنة الأعداد حتى ١٠ الاسم :

أعد الأشياء في كل مجموعة ثم اكتب عددها وضع × على المجموعة الأقل



غير مجتازة

ممكنة

متقدمة

متفوقة

غير متقن أقل من ٨٠ %

متقن المعيار من ٨٠% إلى أقل من ٩٠ %

متقن المعيار من ٩٠% إلى أقل من ١٠٠ %

متقن المعيار ١٠٠ %

معلمة المادة/.....

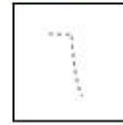



الصف : الأول
الحصّة :

المادة / رياضيات
التاريخ / / / ١٤




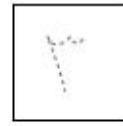



الاسم :

الموضوع / ترتيب الأعداد حتى ١٠

أعد الأشياء ثم مرر قلمك على الأعداد المنقطة واكتب الأعداد المفقودة



٣



غير مجتازة

متمكنة

متقدمة

متفوقة

غير متمكن أقل من ٨٠%

متمكن المعيار من ٨٠% إلى أقل من ٩٠%

متمكن المعيار من ٩٠% إلى أقل من ١٠٠%

متمكن المعيار ١٠٠%

معلمة المادة/.....

الصف : الأول
الحصّة :

المادة / رياضيات
التاريخ / / / ١٤

الاسم :

الموضوع / العدد الترتيبي

اذكر ترتيب كل نسر وضع  على النسر السادس و × على النسر الثالث



غير مجتازة

متمكنة

متقدمة

متفوقة

غير متقن أقل من ٨٠ %

متقن المعيار من ٨٠% إلى أقل من ٩٠%

متقن المعيار من ٩٠% إلى أقل من ١٠٠%

متقن المعيار ١٠٠%


معلم/ة المادة/.....

الصف : الأول
الحصّة :

المادة / رياضيات
التاريخ / / / ١٤

الموضوع / الفصل الثالث (الأعداد حتى ٢٠) الاسم :

أعد الجزرات وحبّات الفلفل عددها



غير مجتازة

متمكنة

متقدمة

متفوقة

غير متمن أقل من ٨٠ %

متمن المعيار من ٨٠% إلى أقل من ٩٠ %

متمن المعيار من ٩٠% إلى أقل من ١٠٠ %

متمن المعيار ١٠٠ %

معلم/ة المادة/.....

الصف : الأول
الوحدة :

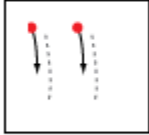
المادة / رياضيات
التاريخ / / / ١٤

الاسم :

الموضوع / العدان ١١ ، ١٢

أعد الأشياء وانطق العدد ومرر قلمك على العدد المنقط واكتبه

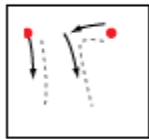
١



٢



غير مجتازة

متمكنة

متقدمة

متفوقة

غير متقن أقل من ٨٠ %

متقن المعيار من ٨٠% إلى أقل من ٩٠%

متقن المعيار من ٩٠% إلى أقل من ١٠٠%

متقن المعيار ١٠٠%

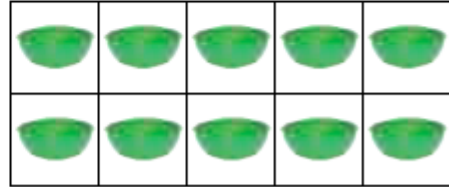

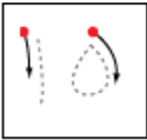
معلمة المادة/.....

الصف : الأول
الحصة :

المادة / رياضيات
التاريخ / / / ١٤

الموضوع / الأعداد ١٣ ، ١٤ ، ١٥ الاسم :

أعد الأشياء وانطق العدد ومرر قلمك على العدد المنقط واكتبه



غير مجتازة

ممكنة

متقدمة

متفوقة

غير متقن أقل من ٨٠ %

متقن المعيار من ٨٠% إلى أقل من ٩٠%

متقن المعيار من ٩٠% إلى أقل من ١٠٠%

متقن المعيار ١٠٠%

معلمة المادة/.....

الصف : الأول
الحصة :

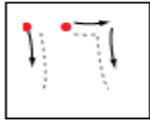
المادة / رياضيات
التاريخ / / / ١٤

الاسم :


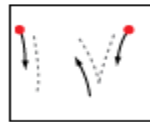
الموضوع / العددين ١٦ - ١٧

أعد الكرات وانطق العدد ثم مرر قلمك على العدد المنقط واكتب العدد

١



٢



غير مجتازة

ممكنة

متقدمة

متفوقة

غير متقن أقل من ٨٠ %

متقن المعيار من ٨٠% إلى أقل من ٩٠%

متقن المعيار من ٩٠% إلى أقل من ١٠٠%

متقن المعيار ١٠٠%

معلمة المادة/.....

الصف : الأول
الحصّة :

المادة / رياضيات
التاريخ / / / ١٤

الموضوع / أبحث عن نمط الاسم :

أعد الريش ثم اكتب العدد وحدد النمط



غير مجتازة

غير متقن أقل من ٨٠ %

متمكنة

متقن المعيار من ٨٠% إلى أقل من ٩٠%

متقدمة

متقن المعيار من ٩٠% إلى أقل من ١٠٠%

متفوقة

متقن المعيار ١٠٠%

معلم/ة المادة/.....

الصف : الأول
الحصة :

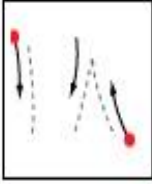
المادة / رياضيات
التاريخ / / / ١٤





الاسم :

الموضوع / الأعداد ١٨ ، ١٩ ، ٢٠


أعد الأشياء واكتب العدد ومرر قلمك على العدد المنقط واكتبه





١




	
	





٢



٣



غير مجتازة

ممكنة

متقدمة

متفوقة

غير متقن أقل من ٨٠ %

متقن المعيار من ٨٠% إلى أقل من ٩٠%

متقن المعيار من ٩٠% إلى أقل من ١٠٠%

متقن المعيار ١٠٠%

معلمة المادة/.....





الصف : الأول
الحصة :


المادة / رياضيات
التاريخ / / / ١٤

الاسم :

الموضوع / مقارنة الأعداد حتى ٢٠

أعد الأشياء في كل طبق واكتب عددها وضعي × على العدد الذي يمثل المجموعة الأكبر

			
<input type="text"/>	<input type="text"/>	<input type="text"/>	<input type="text"/>



غير مجتازة

ممكنة

متقدمة

متفوقة

غير متقن أقل من ٨٠ %

متقن المعيار من ٨٠% إلى أقل من ٩٠%

متقن المعيار من ٩٠% إلى أقل من ١٠٠%

متقن المعيار ١٠٠%

معلمة المادة/.....

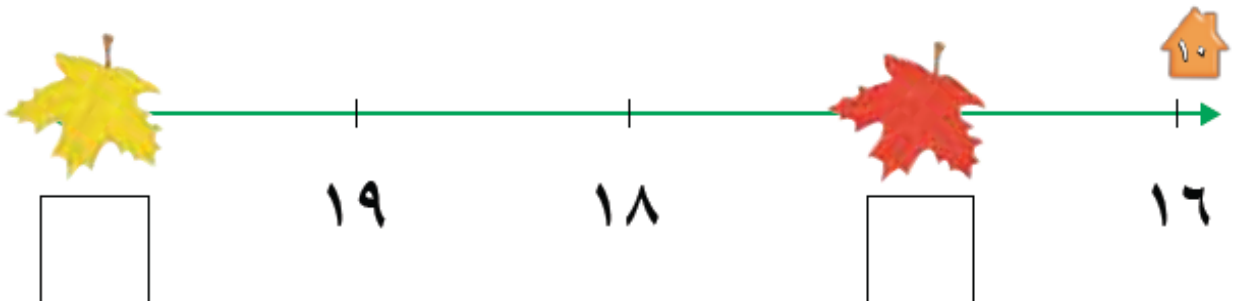
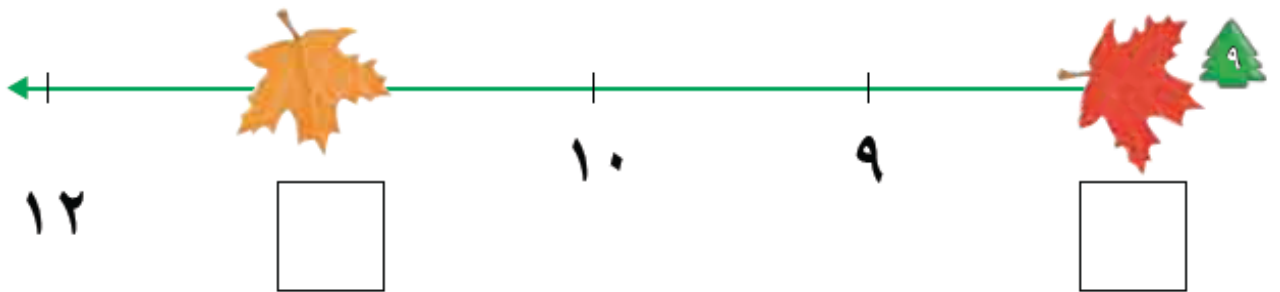
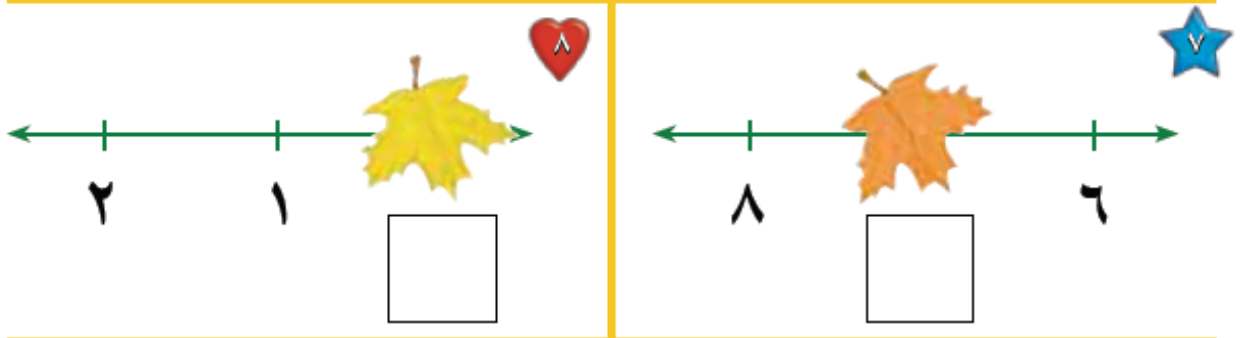
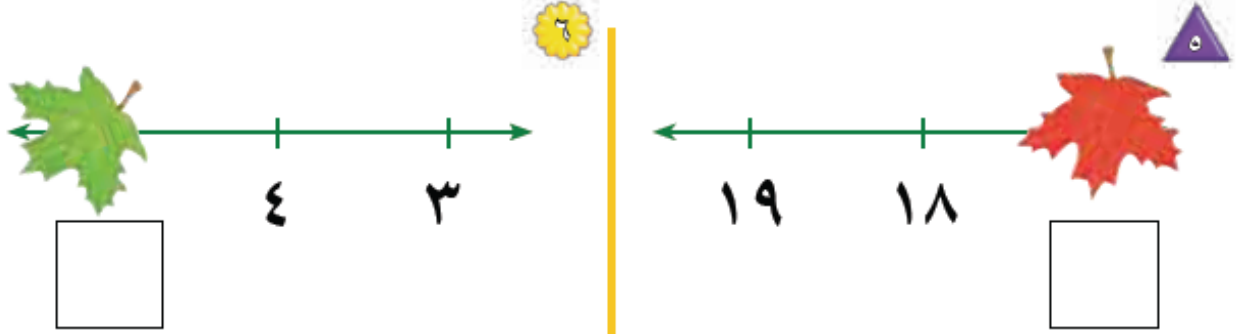
الصف : الأول
الحصّة :

المادة / رياضيات
التاريخ / / / ١٤

الاسم :

الموضوع / ترتيب العدد حتى ٢٠ .

أكتب العدد المفقود في الفراغ



غير مجتازة

ممكنة

متقدمة

متفوقة

غير متقن أقل من ٨٠%

متقن المعيار من ٨٠% إلى أقل من ٩٠%

متقن المعيار من ٩٠% إلى أقل من ١٠٠%

متقن المعيار ١٠٠%

معلم/ة المادة/.....


الصف : الأول
الحصّة :

المادة / رياضيات
التاريخ / / / ١٤

الاسم :

الموضوع / الفصل الرابع (الجمع)

ألاحظ الصورة و اكتب عدد التفاحات



غير مجتازة

ممكنة

متقدمة

متفوقة

غير متقن أقل من ٨٠ %

متقن المعيار من ٨٠% إلى أقل من ٩٠%

متقن المعيار من ٩٠% إلى أقل من ١٠٠%

متقن المعيار ١٠٠%

معلمة المادة/.....

الصف : الأول
الحصة :

المادة / رياضيات
التاريخ / / / ١٤

الاسم :

الموضوع / قصص الجمع

احكي قصة عددية مستعملاً قطع العدد واكتب عدد الحيوانات



٣

ثَعَالِبَ _____



عَزَالاً _____



فَرَأَشَةَ _____

غير مجتازة

متمكنة

متقدمة

متفوقة

غير متقن أقل من ٨٠ %

متقن المعيار من ٨٠% إلى أقل من ٩٠%

متقن المعيار من ٩٠% إلى أقل من ١٠٠%

متقن المعيار ١٠٠%

معلم/ة المادة/.....

الصف : الأول
الحصة :

المادة / رياضيات
التاريخ / / / ١٤

الاسم :

الموضوع / تمثيل الجمع

استعمل ورقة العمل ٣ وقطع العد لإيجاد (الكل) المجموع

جزء	جزء
٥	٤
الكل	



جزء	جزء
٢	٣
الكل	



جزء	جزء
٥	٥
الكل	



جزء	جزء
٢	٥
الكل	



جزء	جزء
٢	٤
الكل	



جزء	جزء
٣	١
الكل	



جزء	جزء
٣	٣
الكل	



جزء	جزء
٢	١
الكل	



غير مجتازة

متمكنة

متقدمة

متفوقة

غير متقن أقل من ٨٠ %

متقن المعيار من ٨٠% إلى أقل من ٩٠%

متقن المعيار من ٩٠% إلى أقل من ١٠٠%

متقن المعيار ١٠٠%

معلم/ة المادة/.....

الصف : الأول
الحصة :

المادة / رياضيات
التاريخ / / / ١٤

الاسم :

الموضوع / جملة الجمع

استعمل المكعبات لتمثيل جملة الجمع واكتبها



— () — () —



— () — () —



— () — () —



— () — () —



— () — () —



— () — () —

غير مجتازة

متمكنة

متقدمة

متفوقة

غير متقن أقل من ٨٠ %

متقن المعيار من ٨٠% إلى أقل من ٩٠ %

متقن المعيار من ٩٠% إلى أقل من ١٠٠%

متقن المعيار ١٠٠%

معلم/ة المادة/.....

الصف : الأول
الحصّة :

المادة / رياضيات
التاريخ / / / ١٤

الاسم :

الموضوع / جمع الصفر

اكتب ناتج الجمع



$$\underline{\quad} = 0 + 3$$



$$\underline{\quad} = 0 + 5$$



$$\underline{\quad} = 1 + 0$$



$$\underline{\quad} = 0 + 6$$

$$\underline{\quad} = 8 + 0$$



$$\underline{\quad} = 0 + 7$$



$$\underline{\quad} = 1 + 2$$



$$\underline{\quad} = 3 + 3$$



غير مجتازة

متمكنة

متقدمة

متفوقة

غير متقن أقل من ٨٠ %

متقن المعيار من ٨٠% إلى أقل من ٩٠%

متقن المعيار من ٩٠% إلى أقل من ١٠٠%

متقن المعيار ١٠٠%

معلم/ة المادة/.....

الصف : الأول
الحصة :

المادة / رياضيات
التاريخ / / / ١٤

الاسم :

الموضوع / أهل المسألة

مثل قصص الجمع لإيجاد الناتج



$$\underline{\hspace{2cm}} = \underline{\hspace{2cm}} + \underline{\hspace{2cm}}$$



$$\underline{\hspace{2cm}} = \underline{\hspace{2cm}} + \underline{\hspace{2cm}}$$



$$\underline{\hspace{2cm}} = \underline{\hspace{2cm}} + \underline{\hspace{2cm}}$$

غير مجتازة

ممكنة

متقدمة

متفوقة

غير متقن أقل من ٨٠ %

متقن المعيار من ٨٠% إلى أقل من ٩٠ %

متقن المعيار من ٩٠% إلى أقل من ١٠٠ %

متقن المعيار ١٠٠ %

معلم/ة المادة/.....


الصف : الأول
الحصّة :


المادة / رياضيات
التاريخ / / / ١٤

الاسم :

الموضوع / تكوين الأعداد ٤ ، ٥ ، ٦

استعمل قطع العد الكرة الحمراء والصفراء وضعهما في مجموعتين لتكوين العدد ٤ ثم لون واكتب الأعداد


تكوّن العدد ٤				
التّاج	يُساوي		زائد	
٤	=	٣	+	١
٤	=	_____	+	_____
٤	=	_____	+	_____










غير مجتازة

ممكنة

متقدمة

متفوقة

غير متقن أقل من ٨٠ %

متقن المعيار من ٨٠% إلى أقل من ٩٠%

متقن المعيار من ٩٠% إلى أقل من ١٠٠%

متقن المعيار ١٠٠%

معلمة المادة/.....

الصف : الأول
الحصة :

المادة / رياضيات
التاريخ / / / ١٤

الاسم :

الموضوع / تكوين الأعداد ٧ ، ٨ ، ٩

استعمل قطع العد الكرة الحمراء والصفراء وضعهما في مجموعتين لتكوين العدان ٨ ، ٩ ثم لون واكتب الأعداد

تكوين العدد ٩				
الناتج	يساوي	زائد	زائد	زائد
٩	=	___	+	___
٩	=	___	+	___
٩	=	___	+	___
٩	=	___	+	___
٩	=	___	+	___
٩	=	___	+	___
٩	=	___	+	___

تكوين العدد ٨				
الناتج	يساوي	زائد	زائد	زائد
٨	=	___	+	___
٨	=	___	+	___
٨	=	___	+	___
٨	=	___	+	___
٨	=	___	+	___
٨	=	___	+	___
٨	=	___	+	___

غير مجتازة

متمكنة

متقدمة

متفوقة

غير متقن أقل من ٨٠%

متقن المعيار من ٨٠% إلى أقل من ٩٠%

متقن المعيار من ٩٠% إلى أقل من ١٠٠%

متقن المعيار ١٠٠%

معلم/ة المادة/.....

الصف : الأول
الحصة :

المادة / رياضيات
التاريخ / / / ١٤

الاسم :

الموضوع / تكوين الأعداد ١٠ ، ١١ ، ١٢

استعمل قطع العد الكرة الحمراء والصفراء ثم ارسم دوائر واكتب العدد



$$10 = \text{---} + \text{---}$$



$$10 = \text{---} + \text{---}$$



$$11 = \text{---} + \text{---}$$



$$11 = \text{---} + \text{---}$$



$$12 = \text{---} + \text{---}$$



$$12 = \text{---} + \text{---}$$



$$12 = \text{---} + \text{---}$$



$$11 = \text{---} + \text{---}$$

غير مجتازة

متمكنة

متقدمة

متفوقة

غير متقن أقل من ٨٠ %

متقن المعيار من ٨٠% إلى أقل من ٩٠%

متقن المعيار من ٩٠% إلى أقل من ١٠٠%

متقن المعيار ١٠٠%

معلمة المادة/.....

الصف : الأول
الحصة :

المادة / رياضيات
التاريخ / / / ١٤

الاسم :

الموضوع / الجمع الرأسي

اكتب الأعداد ثم أوجد الناتج



$$\begin{array}{r} \square \\ \square + \\ \hline \square \end{array}$$



$$\text{---} = \text{---} + \text{---}$$



$$\begin{array}{r} \square \\ \square + \\ \hline \square \end{array}$$



$$\text{---} = \text{---} + \text{---}$$



غير مجتازة

متمكنة

متقدمة

متفوقة

غير متمكن أقل من ٨٠ %

متمكن المعيار من ٨٠% إلى أقل من ٩٠%

متمكن المعيار من ٩٠% إلى أقل من ١٠٠%

متمكن المعيار ١٠٠%

معلم/ة المادة/.....