

## اختبار المهارات الرقمية الفكري الأول لصف أول متوسط الفصل الثاني لعام .....

اسم الطالب/ة: ..... الصف: .....

١٥ درجة	السؤال الأول: حدد العبارة الصحيحة والعبارة الخاطئة:
<input type="checkbox"/>	١- لزيارة موقع إلكتروني يجب عليك معرفة عنوانه الخاص .
<input type="checkbox"/>	٢- تتميز عناوين المواقع الإلكترونية بعالميتها .
<input type="checkbox"/>	٣- تساعد محركات البحث في البحث عن مواقع الويب المتعلقة بموضوع أو كلمات مفتاحية معينة .
<input type="checkbox"/>	٤- يمكن تعيين الصفحة الرئيسية بواسطة البرنامج مع إمكانية تغييرها إذا أردت ذلك .
<input type="checkbox"/>	٥- البريد الإلكتروني وسيلة لتبادل الرسائل بين شخصين أو أكثر .
<input type="checkbox"/>	٦- يمكن إنشاء حساب بريد إلكتروني مجاني بواسطة خدمات البريد الإلكتروني المجانية .
<input type="checkbox"/>	٧- @ هو الرمز الذي يفصل اسم المستخدم في عنوان البريد الإلكتروني عن باقي العنوان وينطق at .
<input type="checkbox"/>	٨- لإرسال رسالة بريد إلكتروني تحتاج أولاً إلى معرفة عنوان البريد الإلكتروني للمستلم .
<input type="checkbox"/>	٩- يمكنك تنظيم الرسائل من خلال إنشاء مجلدات وتجميعها معاً .
<input type="checkbox"/>	١٠- باستخدام شبكة الإنترنت يكون جهازك عرضة بصورة دائمة لأخطار الفيروسات .
<input type="checkbox"/>	١١- البرامج الضارة هي البرامج التي تهدف إلى تعطيل عملية تشغيل الحاسب .
<input type="checkbox"/>	١٢- يمكن تجنب الإصابة بالفيروسات من خلال زيارة مواقع الويب الآمنة والموثوق بها .
<input type="checkbox"/>	١٣- يجب تثبيت برنامج مكافحة الفيروسات لضمان الكشف عن البرامج الضارة الجديدة .
<input type="checkbox"/>	١٤- يتم تحقيق معيار " الجهة المسؤولة " من خلال مدى دقة وصلاحيات المعلومات المعروضة .
<input type="checkbox"/>	١٥- لا تحتاج إلى حماية بياناتك على الانترنت حتى لا يصل إليها الآخرون .

الصفحة التالية <<

**السؤال الثاني : اختر الإجابة الصحيحة:****٥ درجات**

١- أي من عناوين الويب التالية يعد عنوان قياسي :

www.bing

https://www.bing.com

bing.com

٢- يمثل امتداد (.com) مواقع الويب الخاصة بالفئات :

تعليمية

حكومية

تجارية

٣- إذا كان هناك موقع ويب تقوم بزيارته بصورة متكررة ، فيمكن إضافته إلى :

المفضلة

الاعدادات

المظهر

٤- يعد أحد أهم الأدوات الرئيسة في التواصل عبر الانترنت :

متصفح الانترنت

محرك البحث

البريد الإلكتروني

٥- تجمع معلومات حول المستخدمين دون علمهم وهي برامج مخفية عن المستخدم ويصعب اكتشافها :

الدعاية

الدودة

التجسس

**السؤال المساعد : اذكر أنواع فيروسات الحاسب؟****٢ درجتان**

.١

.٢

.٣


.٤

ما مدى رضاكم عن مستوى الاختبار؟



مدير/ة المدرسة :

معلم/ة المادة :



اختبار المهارات الرقمية الفكري الأول لصف أول متوسط الفصل الثاني لعام .....

اسم الطالب: ..... الصف: .....

# نموذج الإجابة

١٥ درجة	السؤال الأول: حدد العبارة الصحيحة والعبارة الخاطئة:
<input checked="" type="checkbox"/>	١- لزيارة موقع إلكتروني يجب عليك معرفة عنوانه الخاص .
<input checked="" type="checkbox"/>	٢- تتميز عناوين المواقع الإلكترونية بعالميتها .
<input checked="" type="checkbox"/>	٣- تساعد محركات البحث في البحث عن مواقع الويب المتعلقة بموضوع أو كلمات مفتاحية معينة .
<input checked="" type="checkbox"/>	٤- يمكن تعيين الصفحة الرئيسية بواسطة البرنامج مع إمكانية تغييرها إذا أردت ذلك .
<input checked="" type="checkbox"/>	٥- البريد الإلكتروني وسيلة لتبادل الرسائل بين شخصين أو أكثر .
<input checked="" type="checkbox"/>	٦- يمكن إنشاء حساب بريد إلكتروني مجاني بواسطة خدمات البريد الإلكتروني المجانية .
<input checked="" type="checkbox"/>	٧- @ هو الرمز الذي يفصل اسم المستخدم في عنوان البريد الإلكتروني عن باقي العنوان وينطق at .
<input checked="" type="checkbox"/>	٨- لإرسال رسالة بريد إلكتروني تحتاج أولاً إلى معرفة عنوان البريد الإلكتروني للمستلم .
<input checked="" type="checkbox"/>	٩- يمكنك تنظيم الرسائل من خلال إنشاء مجلدات وتجميعها معاً .
<input checked="" type="checkbox"/>	١٠- باستخدام شبكة الإنترنت يكون جهازك عرضة بصورة دائمة لأخطار الفيروسات .
<input checked="" type="checkbox"/>	١١- البرامج الضارة هي البرامج التي تهدف إلى تعطيل عملية تشغيل الحاسب .
<input checked="" type="checkbox"/>	١٢- يمكن تجنب الإصابة بالفيروسات من خلال زيارة مواقع الويب الآمنة والموثوق بها .
<input checked="" type="checkbox"/>	١٣- يجب تثبيت برنامج مكافحة الفيروسات لضمان الكشف عن البرامج الضارة الجديدة .
<input checked="" type="checkbox"/>	١٤- يتم تحقيق معيار " الجهة المسؤولة " من خلال مدى دقة وصلاحيات المعلومات المعروضة .
<input checked="" type="checkbox"/>	١٥- لا تحتاج إلى حماية بياناتك على الانترنت حتى لا يصل إليها الآخرون .

الصفحة التالية <<

**السؤال الثاني : اختر الإجابة الصحيحة:**

١- أي من عناوين الويب التالية يعد عنوان قياسي :		
www.bing	<a href="https://www.bing.com">https://www.bing.com</a>	bing.com
٢- يمثل امتداد (.com) مواقع الويب الخاصة بالفئات :		
تعليمية	حكومية	تجارية
٣- إذا كان هناك موقع ويب تقوم بزيارته بصورة متكررة ، فيمكن إضافته إلى :		
المفضلة	الاعدادات	المظهر
٤- يعد أحد أهم الأدوات الرئيسة في التواصل عبر الانترنت :		
متصفح الانترنت	محرك البحث	البريد الإلكتروني
٥- تجمع معلومات حول المستخدمين دون علمهم وهي برامج مخفية عن المستخدم ويصعب اكتشافها :		
الدعاية	الدودة	التجسس

**السؤال المساعد : اذكر أنواع فيروسات الحاسب؟**

١. التجسس
٢. الدودة
٣. الدعاية
٤. حصان طروادة

ما مدى رضاكم عن مستوى الاختبار؟



مدير/ة المدرسة :

معلم/ة المادة :

الاسم /

الصف

10

**السؤال الأول :** ضعي علامة ✓ امام العبارات الصحيحة وعلامة ✗ امام العبارات الخاطئة :

- 1- تستخدم المخططات لمقارنة القيم ( )
- 2- لا يمكنك استخدام العمليات الحسابية في IF ( )
- 3- في اكسل تبدأ جميع الدوال بعلامة التساوي "=" ( )
- 4- في كل مره نقوم بتعديل بيانات جدولك لايجب عليك ادراج مخطط جديد انما تتعدل البيانات تلقائيا ( )
- 5- في دالة IF يجب ان تستخدم علامتي التنصيص عند استخدام النص كشرط ( )

**السؤال الثاني :** اختاري رمز الإجابة الصحيحة فيما يلي :

1- رسم بياني دائري مقسم الى شرائح دائرية يستخدم لإظهار نسب كل جزء :		
أ. المخطط الخطي	ب. المخطط الدائري	ج. المخطط الهرمي
2- تعتبر دالة IF من الدوال :		
أ. المنطقية	ب. العددية	ج. النصية

**السؤال الثالث :**

اختاري المخطط المناسب لمايلي :		
1	.....	مخطط يستخدم لعرض النسب المئوية
2	.....	مخطط يستخدم لمقارنة القيم
3	.....	مخطط يوضح كيف تتغير البيانات مع مرور الوقت

الدائري



الخطي



الشريطي



## الجزء العملي

س1: أ- اختاري الإجابة الصحيحة لكل من العبارات التالية: -

1- تسمى التأثيرات التي تحدث عند الانتقال من شريحة إلى شريحة أخرى أثناء تقديم العرض.			
أ- حركات	ب- تصميم	ج- انتقالات	
2- يمكن إضافة صور او فيديو الى شرائح العرض التقديمي وذلك من قائمة:			
أ- ادراج	ب- تحرير	ج- ملف	
3- يتم إضافة تأثيرات حركية على محتويات الشريحة كالنصوص والصور وذلك من قائمة			
أ- تنسيق	ب- حركات	ج- انتقالات	
4- لإضافة مخطط بياني في برنامج الاكسل من قائمة:			
أ- ادراج	ب- ملف	ج- تنسيق	
5- لإضافة الدالة المنطقية IF من علامة تبويب:			
أ- ادراج	ب- ملف	ج- الصيغ	
6- طريقة العرض الأساسية في برنامج الباوربوينت:			
أ- العادي	ب- فارز الشرائح	ج- للقراء	
7- لإجراء عرض تقديمي من الشريحة الأولى يتم الضغط من لوحة المفاتيح على زر			
أ- F6	ب- F2	ج- F5	

س3/ من خلال دراستك لدالة IF صلي العمود الأول بما يناسبه من العمود الثاني:

العمود الثاني	العمود الأول
القيمة المراد إرجاعها عند تقييم logical_test إلى خطأ	Logical_test 1
القيمة المراد إرجاعها عند تقييم logical_test إلى صواب	Value_if_true 2
تعتبر قيمة أو تعبير منطقي يمكن تقييمه على أنه صواب أو خطأ	Value_if_false 3

# نموذج الإجابة

الاسم / .....

10

**السؤال الأول :** ضعي علامة ✓ امام العبارات الصحيحة وعلامة ✗ امام العبارات الخاطئة :

- 6- تستخدم المخططات لمقارنة القيم ( صح )
- 7- لا يمكنك استخدام العمليات الحسابية في IF ( خطأ )
- 8- في اكسل تبدأ جميع الدوال بعلامة التساوي "=" ( صح )
- 9- في كل مره تقوم بتعديل بيانات جدولك لايجب عليك ادراج مخطط جديد انما تتعدل البيانات تلقانيا ( صح )
- 10- في دالة IF يجب ان تستخدم علامتي التنصيص عند استخدام النص كشرط ( صح )

**السؤال الثاني :** اختاري رمز الإجابة الصحيحة فيما يلي :

3- رسم بياني دائري مقسم الى شرائح دائرية يستخدم لإظهار نسب كل جزء :		
أ. المخطط الخطي	ب. المخطط الدائري	ج. المخطط الهرمي
4- تعتبر دالة IF من الدوال :		
ب. المنطقية	ب. العددية	ج. النصية

**السؤال الثالث :**

اختاري المخطط المناسب لمايلي :		
1	.....الدائري.....	مخطط يستخدم لعرض النسب المئوية
2	.....الشريطي.....	مخطط يستخدم لمقارنة القيم
3	.....الخطي.....	مخطط يوضح كيف تتغير البيانات مع مرور الوقت

الدائري



الخطي



الشريطي



## الجزء العملي

س1: أ- اختاري الإجابة الصحيحة لكل من العبارات التالية: -

6- تسمى التأثيرات التي تحدث عند الانتقال من شريحة إلى شريحة أخرى أثناء تقديم العرض.			
أ- حركات	ب- تصميم	ج- انتقالات	
7- يمكن إضافة صور او فيديو الى شرائح العرض التقديمي وذلك من قائمة:			
أ- ادراج	ب- تحرير	ج- ملف	
8- يتم إضافة تأثيرات حركية على محتويات الشريحة كالنصوص والصور وذلك من قائمة			
أ- تنسيق	ب- حركات	ج- انتقالات	
9- لإضافة مخطط بياني في برنامج الاكسل من قائمة:			
أ- ادراج	ب- ملف	ج- تنسيق	
10- لإضافة الدالة المنطقية IF من علامة تبويب:			
أ- ادراج	ب- ملف	ج- الصيغ	
6- طريقة العرض الأساسية في برنامج الباوربوينت:			
أ- العادي	ب- فارز الشرائح	ج- للقراء	
7- لإجراء عرض تقديمي من الشريحة الأولى يتم الضغط من لوحة المفاتيح على زر			
أ- F6	ب- F2	ج- F5	

س3/ من خلال دراستك لدالة IF صلي العمود الأول بما يناسبه من العمود الثاني:

العمود الثاني		العمود الأول	
القيمة المراد إرجاعها عند تقييم logical_test إلى خطأ	3	Logical_test	1
القيمة المراد إرجاعها عند تقييم logical_test إلى صواب	2	Value_if_true	2
تعتبر قيمة أو تعبير منطقي يمكن تقييمه على أنه صواب أو خطأ	1	Value_if_false	3



اسم الطالبة ..... الصف .....

السؤال الأول : اختاري الإجابة الصحيحة :		
١- ... يعد الاتصال بالانترنت امراً سهلاً لأي شخص تحتاج فقط الى .....		
موجه	طابعة	لوحة مفاتيح
٢- يمثل امتداد (COM) مواقع الويب الخاصة بالفئات .....		
التجارية	التعلمية	الحكومية
٣- يعد أحد أهم الأدوات الرئيسية في التواصل عبر الانترنت .....		
البريد الإلكتروني	متصفح الانترنت	محرك البحث
٤- برامج تكرر نفسها من أجل انتشار في أجهزة الحاسب الأخرى .....		
برامج الدودة	برامج التجسس	برامج الفدية الضارة
٥- يمكنك حفظ معلومات الاتصال باصدقائك لتستخدمها في برنامج البريد الإلكتروني ...		
جهات الاتصال أو دفتر العناوين	تنظيم الرسائل في مجلدات	البحث في البريد الإلكتروني
٦- الدوال التي تحمل وسطيتها ونتاجها قيمة مكونة من عنصرين عادة ما تكون صواب او خطأ .		
الدوال الرياضية.	الدوال المنطقية.	الدوال النصية
٧- نوع من أنواع المخططات يستخدم لعرض النسب المئوية ....		
الدائري	الخطي	العامودي
٨- لتغير شكل المخطط يستخدم .....		
أنماط الاشكال	ادراج الاشكال	ادراج الايقونات

السؤال الثاني : حددي العبارة الصحيحة والعبارة الخاطئة مع تصويب الخطأ:		
خطأ	صح	١- يتحقق معيار " دقة المعلومات " من خلال مدى دقة وصحة المعلومات المقدمة
○	○	٢- يمكن زيارة موقع ويب بدون معرفة عنوانه الخاص
○	○	٣- لارسال رسالة بريد الكتروني تحتاج أولاً الى معرفة عنوان البريد الإلكتروني
○	○	

○	○	٤- البريد الإلكتروني وسيلة لتبادل الرسائل لشخص واحد فقط
○	○	٥- تحتاج الى حماية بياناتك على الانترنت حتى لا يصل اليها الاخرين
○	○	٦- اذا كانت لديك رسالة تحتاج انتباه خاص يمكن إضافة علامة <b>Flag</b>
○	○	٧- البرامج الضارة هي البرامج التي تهدف الى تعطيل عملية تشغيل الحاسب
○	○	٨- تعد دالة f او واحدة من اكثر الدوال شيوعا في برنامج مايكروسوفت إكسل

### السؤال الثالث :

صلي كل ايقونة مع الوظيفة المناسبة التي تستخدمها عند كتابة أو إعادة توجيه رسالة بريد إلكتروني ؟

رد.	○	!	○
إرفاق الملفات.	○	↩	○
تصحيح الأخطاء الإملائية.	○	🔍	○
تكبير أو تصغير.	○	abc	○
أهمية عالية.	○	🔍	○
البحث.	○	📄	○
إعادة توجيه.	○	→	○

بالتوفيق مبرمجات المستقبل : معلمة المادة: أ : منى



اختبار الفترة الأولى مادة المهارات الرقمية للصف (الأول المتوسط) - نموذج (أ) -

**مستعينة بالله أحبب عن الأسئلة التالية (الجزء النظري):-**

**السؤال الاول \*\*\* اختاري الإجابة الصحيحة :-**

1. لإعداد عروض تقديمية نستخدم برنامج مايكروسوفت			
أ. بوربوينت	ب. Excel اكسل	ج. Word وورد	د. Access
2. هي مواضع أعلى وأسفل كل شريحة يمكنك من كتابة معلومات حول العرض التقديمي وتظهر في كافة الشرائح:			
أ. الملاحظات .	ب. الرأس والتذييل	ج. طرق العرض	د. السمات .
3. تأثيرات الحركة التي تحدث عند الانتقال من شريحة إلى شريحة أخرى عند تقديم العرض .			
أ. ادراج .	ب. حركات .	ج. انتقالات .	د. تصميم .
4. يمكن ادراج ملفات صوت او فيديو في .....			
أ. الشريحة الأولى فقط .	ب. الشريحة الأخيرة فقط .	ج. الشريحة الأولى والأخيرة فقط .	د. في أي شريحة .

**السؤال الثاني \*\*\* اختاري العلامة الصحيحة (صح) او (خطأ):-**

م	العبارة	اختاري العلامة
1.	لا يجب أن تأخذ بعين الاعتبار آراء الآخرين وانتقاداتهم بشأن العرض التقديمي .	صح خطأ
2.	المخططات البيانية المستخدمة في برنامج العروض التقديمية تمثل البيانات الرقمية .	صح خطأ
3.	يمكن استخدام أي نوع من رسومات smart art لتقديم أي نوع من المعلومات .	صح خطأ
4.	لا يوضح تأثير الحركة طريقة ظهور الصورة أو اختفائها تدريجياً .	صح خطأ

**السؤال الثالث \*\*\* عددي اثنان من طرق عرض الشرائح :-**

1-.....

2-.....

اختبار الفترة الأولى مادة المهارات الرقمية للصف (الأول المتوسط) - نموذج (ب) -

مستعينة بالله أحبب عن الأسئلة التالية (الجزء النظري):-

السؤال الاول \*\*\* اختاري الإجابة الصحيحة :-

1. لإعداد عروض تقديمية نستخدم برنامج مايكروسوفت			
أ. Word وورد	ب. Excel اكسل	ج. بوربوينت	د. Access
2. يمكن ادراج ملفات صوت او فيديو في .....			
أ. الشريحة الأخيرة فقط .	ب. الشريحة الأولى فقط .	ج. في أي شريحة .	د. الشريحة الأولى والأخيرة فقط
3. تأثيرات الحركة التي تحدث عند الإنتقال من شريحة إلى شريحة أخرى عند تقديم العرض .			
أ. انتقالات .	ب. حركات .	ج. ادراج .	د. تصميم .
4. هي مواضع أعلى وأسفل كل شريحة يمكنك من كتابة معلومات حول العرض التقديمي وتظهر في كافة الشرائح:			
أ. الرأس والتذييل	ب. الملاحظات .	ج. السمات .	د. طرق العرض .

السؤال الثاني \*\*\* اختاري العلامة الصحيحة (صح) او (خطأ):-

م	العبارة	اختاري العلامة
1.	لا يجب أن تأخذ بعين الإعتبار آراء الآخرين وانتقاداتهم بشأن العرض التقديمي .	صح خطأ
2.	يوضح تأثير الحركة طريقة ظهور الصورة أو اختفائها تدريجيا .	صح خطأ
3.	يمكن استخدام أي نوع من رسومات smart art لتقديم أي نوع من المعلومات .	صح خطأ
4.	المخططات البيانية المستخدمة في برنامج العروض التقديمية تمثل البيانات الرقمية .	صح خطأ

السؤال الثالث \*\*\* عددي اثنان من طرق عرض الشرائح :-

1-.....

2-.....

اختبار الفترة الأولى مادة المهارات الرقمية لمعلومات للصف (الأول المتوسط) - نموذج (ج) -

مستعينة بالله أحبب عن الأسئلة التالية (الجزء النظري):

السؤال الاول \*\*\* اختاري الإجابة الصحيحة :-

1. لإعداد عروض تقديمية نستخدم برنامج مايكروسوفت			
أ. بوربوينت	ب. Excel اكسل	ج. Word وورد	د. Access
2. تأثيرات الحركة التي تحدث عند الانتقال من شريحة إلى شريحة أخرى عند تقديم العرض .			
أ. ادراج .	ب. حركات .	ج. انتقالات .	د. تصميم .
3. هي مواضع أعلى وأسفل كل شريحة يمكنك من كتابة معلومات حول العرض التقديمي وتظهر في كافة الشرائح:			
أ. الملاحظات .	ب. طرق العرض	ج. الرأس والتذييل	د. السمات .
4. يمكن ادراج ملفات صوت او فيديو في .....			
أ. الشريحة الأولى فقط .	ب. الشريحة الأخيرة فقط .	ج. في أي شريحة .	د. الشريحة الأولى والأخيرة فقط .

السؤال الثاني \*\*\* اختاري العلامة الصحيحة (صح) او (خطأ):

م	العبارة	اختاري العلامة
1.	يجب أن تأخذ بعين الاعتبار آراء الآخرين وانتقاداتهم بشأن العرض التقديمي .	صح خطأ
2.	المخططات البيانية المستخدمة في برنامج العروض التقديمية تمثل البيانات الرقمية .	صح خطأ
3.	يمكن استخدام أي نوع من رسومات smart art لتقديم أي نوع من المعلومات .	صح خطأ
4.	لا يوضح تأثير الحركة طريقة ظهور الصورة أو اختفائها تدريجيا .	صح خطأ

السؤال الثالث \*\*\* عددي اثنان من طرق عرض الشرائح :-

1-.....

2-.....

هـ اختبار منتصف الفصل الدراسي الثاني الصف الأول متوسط عام  
الاسم: ..... الفصل: .....

س1: ضعي علامة ( ✓ ) أمام العبارات الصحيحة وعلامة ( x ) أمام العبارات الخاطئة:

1	لزيرة موقع إلكتروني يجب عليك معرفة عنوانه الخاص
2	يعتبر كل ما يعرض على الانترنت صحيح.
3	محرك البحث يعد أحد أهم الأدوات الرئيسية في التواصل عبر الانترنت
4	باستخدام شبكة الإنترنت يكون جهازك عرضة بصورة دائمة لأخطار الفيروسات
5	يمكن تجنب الإصابة بالفيروسات من خلال زيارة مواقع الويب الغير آمنه
6	يتم تحقيق معيار " الجهة المسؤولة " من خلال مدى دقة وصلاحيه المعلومات المعروضة.
7	إذا أعجبتك صورة وأردت حفظها يجب أن تتأكد أنها مجانية الاستخدام.
8	البريد العشوائي هو رسالة بريد الكتروني غالبا ما تحتوي على روابط ضارة.

س2: اختاري الإجابة الصحيحة فيما يلي:

1- تحسب الدالة ..... عدد الأحرف في خلية نصية	أ. LEN	ب. CONCAT	ج. TODAY	د. NOW
2- يتيح لك البريد الإلكتروني ارسال رسالة بدون أن يظهر عنوان المستلم من خلال خاصية :	أ. التقويم	ب. BCC	ج. CC	د. العلم
3- إذا كان هناك موقع ويب تقوم بزيارته بصورة متكررة ، فيمكن إضافته إلى :	أ. الصفحة الرئيسية	ب. الإعدادات	ج. المظهر	د. المفضلة
4- أي من البرامج التالية يعد متصفح ويب :	أ. الرسام	ب. بوربوينت	ج. قوقل كروم	د. المفكرة

س3: اختاري المصطلح المناسب لكل من العبارات التالية : ( برامج التجسس – البريد الإلكتروني – الانترنت – حضان طروادة )

1	شبكة عالمية تتكون من ملايين الحواسيب التي تتبادل المعلومات
2	يبدو كأنه برنامج طبيعي وغير ضار والهدف منه هو منح المتسلل وصولاً الى جهاز الحاسب
3	وسيلة لتبادل الرسائل الإلكترونية بين شخصين أو أكثر ويعتبر من أهم وسائل التواصل عبر الانترنت
4	برامج مخفية عن المستخدم ويصعب اكتشافها و تجمع معلومات حول المستخدمين دون علمهم

س4 : صلي أجزاء عنوان البريد الإلكتروني بالمسمى المناسب لها : ( اسم المستخدم – الامتداد - اسم المستخدم - at )

[Amal-567@Outlook.com](mailto:Amal-567@Outlook.com)

--	--	--	--

انتهت الأسئلة ،، تمنياتي لكن بالتوفيق

عزيزي الطالب مستعينا بالله أجب على الأسئلة التالية:

السؤال الأول : ضع علامة صح (√) امام العبارات الصحيحة وعلامة خطأ (x) أمام العبارات الخاطئة:

( )	1- رسائل البريد الالكتروني يجب أن تكون طويلة وتحتوي على تفاصيل كثيرة.
( )	2- لا يمكنك تصفح المواقع الالكترونية والبحث عبر الانترنت عن الصور.
( )	3- يمكنك إضافة أو حذف أو إعادة تسمية أوراق العمل في أكسل.
( )	4- إذا أعجبتك صورة وأردت حفظها يجب أن تتأكد أنها مجانية الاستخدام.
( )	5- لا يمكن إضافة أيقونات في برنامج مايكروسوفت أكسل.
( )	6- البريد العشوائي هو رسالة بريد الكتروني غالبا ما تحتوي على برامج ضارة.

السؤال الثاني : اختر الأجابة الصحيحة مما يلي بوضع دائرة عليها :

1. يتيح لك البريد الالكتروني تنظيم جدولك الزمني وواجباتك من خلال ميزة:					
أ	المجلدات	ب	التقويم	ج	الرسائل
2. الرمز الذي يفصل اسم المستخدم عن باقي العنوان وينطق at :					
أ	WWW	ب	ISP	ج	@
3. تحسب الدالة ..... عدد الأحرف في خلية نصية :					
أ	LEN	ب	TODAY	ج	NOW
4. لإضافة مرفقات لرسالتك في البريد الالكتروني عن طريق تبويب:					
أ	تنسيق	ب	إدراج	ج	خيارات

تمنياتي لكم التوفيق والنجاح يا ابطال  
أ.حسن الداود

المادة : حاسب آلي  
الزمن :  
الصف : أول متوسط  
التاريخ : هـ

## هـ اختبار فترة الفصل الدراسي الثاني للعام الدراسي هـ

اسم الطالب	المجموع	8
------------	---------	---

### السؤال الاول / اختر الاجابة الصحيحة مما يلي :

4
---

1 -	شبكة عالمية تتكون من ملايين الحواسيب التي تتبادل البيانات	
أ- الانترنت	ب- متصفح الويب	ج- الشبكة المحلية
2 -	يجب تثبيته على جهاز الحاسب الخاص بك والتأكد من تحديثه باستمرار لضمان الكشف عن البرامج الضارة	
أ- برنامج مكافحة الفيروسات	ب- برنامج الانترنت	ج- برنامج التجسس
3 -	يمثل امتداد (.com) مواقع الويب الخاصة بالفئات	
أ- التجارية	ب- التعليمية	ج- الحكومية
4 -	يعد أهم الادوات المهمة في التواصل عبر الانترنت	
أ- متصفح الانترنت	ب- المفضلة	ج- البريد الإلكتروني

### السؤال الثاني / ضع علامة صح امام العبارة الصحيحة وعلامة خطأ أمام العبارة الخاطئة :

4
---

1 -	تتميز عناوين المواقع الإلكترونية بعلميتها ( )
2 -	جدار الحماية يستخدم في المحافظة على أمن الشبكة ويتحكم في حركة البيانات ( )
3 -	برامج الدودة هي برامج تكرر نفسها من أجل الأنتشار في أجهزة الحاسب الأخرى ( )
4 -	يعتبر كل مايعرض على مواقع الويب صحيحاً ( )

انتهت الأسئلة ،،،

معلم المادة / عبدالله محمد الشهراني

اختبار الفترة (نظري) للفصل الدراسي الثاني هـ

اسم الطالبة/.....

10

السؤال الأول : أ- اختر الاجابة الصحيحة بوضع علامة  عند الاجابة الصحيحة:-

1- شبكة عالمية تتكون من ملايين الحواسيب التي تتبادل المعلومات:			
<input type="checkbox"/>	موقع الويب	<input type="checkbox"/>	محركات البحث
<input type="checkbox"/>	الانترنت	<input type="checkbox"/>	
2- من خلال متصفح الايدج يمكن.....			
<input type="checkbox"/>	حفظ الصور فقط	<input type="checkbox"/>	حفظ الفيديو فقط
<input type="checkbox"/>	حفظ الصور والفيديو	<input type="checkbox"/>	
3- اختصار الشبكة العنكبوتية العالمية			
<input type="checkbox"/>	URL	<input type="checkbox"/>	ISP
<input type="checkbox"/>	WWW	<input type="checkbox"/>	
4- للاتصال بالانترنت نحتاج جهاز حاسب فقط			
<input type="checkbox"/>	صح	<input type="checkbox"/>	خطأ
5- يستخدم لحماية الحاسب من الفيروسات :			
<input type="checkbox"/>	البرامج الدعائية	<input type="checkbox"/>	مكافح الفيروسات
<input type="checkbox"/>	الرسام	<input type="checkbox"/>	
6- يبدو كأنه برنامج طبيعي غير ضار والغرض منه التسلل لجهازك الخاص لسرقة المعلومات			
<input type="checkbox"/>	برامج الدودة	<input type="checkbox"/>	حصان طروادة
<input type="checkbox"/>	برامج التجسس	<input type="checkbox"/>	
7- برامج تكرر نفسها من أجل الانتشار في أجهزة الحاسب الأخرى:			
<input type="checkbox"/>	برامج الفدية الضارة	<input type="checkbox"/>	برامج الدودة
<input type="checkbox"/>	برامج التجسس	<input type="checkbox"/>	
8- الغرض الرئيسي من الفيروسات			
<input type="checkbox"/>	حماية المعلومات من المتسلسلين	<input type="checkbox"/>	الحاق الضرر بالحاسب وسرقة المعلومات
<input type="checkbox"/>	تحديث الحاسب	<input type="checkbox"/>	
- هي رسائل مشبوهة لجمع المعلومات وتحتوي على برامج ضارة			
<input type="checkbox"/>	الرسائل الخطيرة	<input type="checkbox"/>	الفيروس
<input type="checkbox"/>	جدار الحماية	<input type="checkbox"/>	
9- لزيارة موقع إلكتروني يجب عليك معرفة عنوانه الخاص			
<input type="checkbox"/>	صح	<input type="checkbox"/>	خطأ
10- كلمات المرور لا بد ان تكون سهله ويمكن استخدام معلومات شخصية			
<input type="checkbox"/>	صح	<input type="checkbox"/>	خطأ

الأسباب التي تؤدي الى اصابة جهاز الحاسب بالفيروسات:

- 1-.....  
2-.....  
3-.....  
4-.....

انتهت الأسئلة بالتوفيق طالبتى الرائعة

معلمتك /

أختبار مادة مهارات رقمية الفصل الدراسي الثالث (الفترة الأولى) للصف الأول متوسط

أسم الطالبة:	.....	الدرجة (المستحقة) (عملي)	12	الدرجة (المستحقة) (نظري)	8
--------------	-------	-----------------------------	----	-----------------------------	---

(الجزء النظري) ضعي دائرة O حول الاجابة الصحيحة:

8
---

1-	دالة تقوم بإجراء اختبار منطقي ويعيد قيمة واحدة لنتيجة صواب وخطأ
	(أ) دالة Sum (ب) دالة Average (ج) دالة If (د) دالة Max
2-	تبدأ جميع الدوال بعلامة
	(أ) + (ب) - (ج) * (د) =
3-	يتم إدراج دالة If من تبويب
	(أ) إدراج (ب) تخطيط الصفحة (ج) الصيغ (د) بيانات
4-	يمكن استخدام دالة If لـ
	(أ) تنسيق الجداول (ب) إجراء الحسابات (ج) إجراء الاختبارات المنطقية (د) الخيار ب و ج
5-	يتيح برنامج إكسل تنسيق المخططات البيانية فيمكن
	(أ) ألوانها (ب) خطوطها (ج) خصائصها (د) جميع ماسبق
6-	نوع من أنواع المخططات مفيد في مقارنة القيم
	(أ) مخططات الأعمدة والأشرطة (ب) المخططات الخطية (ج) المخططات الدائرية (د) المخططات المساحية
7-	يتم إدراج المخططات البيانية من قائمة
	(أ) ملف (ب) الصفحة الرئيسية (ج) إدراج (د) بيانات
8-	أي من البرامج التالية يعد برنامج جداول بيانات
	(أ) مايكروسوفت إكسل لنظام أي أو إس (ب) دو كس تو جو لنظام جوجل (ج) ليبر أوفيس كالك (د) جميع ماسبق
<b>(سؤال مساعد) من درجتان فقط</b>	
9-	يمكن أن تحتوي عبارة IF على نتيجتين قد تكون:
	(أ) نص (ب) رقم (ج) دوال اخرى (د) جميع ماسبق
10-	لطباعة الأوراق التي تم العمل فيها نختار الأمر
	(أ) طباعة أوراق نشطة (ب) طباعة التحديد (ج) طباعة أوراق غير نشطة (د) طباعة كامل المستند

ضعي كلمة ( صح ) أم ( خطأ ) أمام العبارات التالية:

1. المقارنة بين الأرقام أوضح وأسرع من المقارنة بين الأشكال	
2. الدوال المنطقية هي التي تحمل وسيطاتها ونتائجها قيمة مكونة من عنصرين عادة ما تكون صواب أو خطأ	
3. تعد دالة IF واحدة من أكثر الدوال شيوعاً في برنامج مايكروسوفت إكسل	
4. القيمة التي يتم إرجاعها إذا كان Logical_test صحيحة هي قيمة رقمية فقط	
5. لا يمكنك استخدام العمليات الحسابية في دوال IF.	
6. عبارة IF قد تكون نتيجتها نص	
7. تستخدم المخططات الخطية لمقارنة القيم.	
8. عند الانتهاء من كتابة دالة IF في شريط الصيغة يجب الضغط على زر Enter	
9. المخطط البياني هو تمثيل مرئي للمعلومات	
10. بمجرد اختيار نوع المخطط البياني فإنه لا يمكن تغييره	
11. في دالة IF يجب ان يكون هناك قوسان حول النص الذي تريد اظهاره على انه صواب او خطأ للشرط	
12. في مرة تقوم فيها بتغيير شيء ما في جدولك , لا يجب عليك إعادة إدراج المخطط لتمثيل معلوماتك مرة أخرى	
<b>(سؤال مساعد) من درجتان فقط</b>	
2	
1. يجب تحديد بياناتك أولاً , قبل إنشاء مخطط	
2. سيخبرك مايكروسوفت إكسل دائماً إذا كانت هناك مشكلة في وظيفة قمت بإنشائها	

انتهت الأسئلة - تمنياتي لكي بالتوفيق والنجاح

# نموذج الإجابة

أجابات اختبار اول متوسط:

جدول أجابات الأسئلة:									
(10)	(9)	(8)	(7)	(6)	(5)	(4)	(3)	(2)	(1)
أ	د	د	ج	أ	د	ج	ج	د	ج

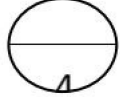
خطأ	1.
صح	2.
صح	3.
خطأ	4.
خطأ	5.
صح	6.
خطأ	7.
صح	8.
صح	9.
خطأ	10.
خطأ	11.
صح	12.
<b>(سؤال مساعد) من درجتان فقط</b>	
صح	3
خطأ	4

أختبار مادة مهارات رقمية 1-3 الفصل الدراسي الثالث (الفترة الثانية) للصف أول متوسط

الدرجة المستحقة (نظري)	الدرجة المستحقة (عملي)	اسم الطالبة:
8	12	الصف:

(الجزء النظري)

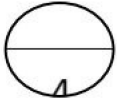
السؤال الأول: أختاري الأجوبة الصحيحة لكل سؤال ثم ضعي إجابة كل سؤال في جدول الأجابات الذي أمامك:



جدول الأجابات:							
(1)	(2)	(3)	(4)	(5)	(6)	(7)	(8)

جدول الأسئلة:

1-	يعد أحد أهم برامج العروض التقديمية	(أ) مايكروسوفت وورد	(ب) مايكروسوفت بوربوينت	(ج) مايكروسوفت اكسل	(د) مايكروسوفت ون نوت
2-	هي مواضع أعلى وأسفل كل شريحة يمكنك من كتابة معلومات حول العرض التقديمي وتظهر في كافة الشرائح	(أ) الملاحظات	(ب) الرؤوس التذييلات	(ج) السمات	(د) طرق العرض
3-	تأثيرات الحركة التي تحدث ( أثناء عرض الشرائح ) عند الانتقال من شريحة إلى أخرى أثناء تقديم العرض	(أ) الانتقالات	(ب) ضبط التوقيت	(ج) تأثيرات الحركة	(د) الحركات
4-	يمكن إضافة تأثيرات الحركة في العرض التقديمي إلى	(أ) نصوص	(ب) صور	(ج) اشكال	(د) جميع ماسبق
5-	يمكن تغيير نمط ولون المخطط البياني من خلال علامة التبويب:	(أ) حركات	(ب) الانتقالات	(ج) التصميم	(د) عرض الشرائح
6-	من التلميحات والنصائح التي تعزز جودة العرض التقديمي:	(أ) حدد وقت العرض	(ب) حدد هدفك بدقة	(ج) اعرف جمهورك	(د) جميع ماسبق
7-	يمكن إدراج ملفات الصوت والفيديو في :	(أ) الشريحة الأولى	(ب) الشريحة الأولى والأخيرة	(ج) أي شريحة	(د) لاشيء مما سبق
8-	يجب تحضير عرضك التقديمي جيداً ومن الأمور التي تساعد على ذلك:	(أ) دراسة الموضوع جيداً	(ب) البحث عن المعلومات في المصادر المختلفة	(ج) عدم جعل الشرائح مزدحمة بالنصوص والصور	(د) جميع ماسبق



السؤال الثاني: ضعي كلمة ( صح ) أم ( خطأ ) أمام العبارات التالية:

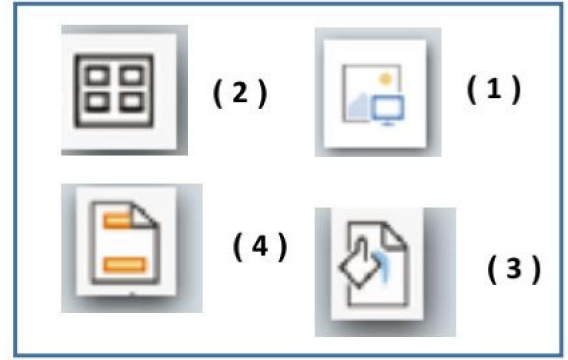
(1) إذا رغبت في عرض شيء ما فمن الجيد تجميع أفكارك ويمكن القيام بذلك من خلال الشرائح	
(2) ينصح باستخدام الكثير من السمات للعرض التقديمي	
(3) باستخدام عرض صفحة الملاحظات يمكنك كتابة الملاحظات التي تريد عرضها عن شريحة معينة	
(4) يمكن إدراج ملف صوتي في العرض التقديمي الخاص بك	
(5) لا يمكن تغيير المدة للتأثير الانتقالي	
(6) يمكن إدراج مقطع فيديو في العرض التقديمي الخاص بك من خلال جهاز الحاسب الخاص بك فقط	
(7) يجب التحقق من مكان العرض والمعدات قبل البدء بالعرض	
(8) ينصح باستخدام ألوان متعددة بدلاً من استخدام درجات اللون	

يتبع

1

الأيقونة

وظيفة الأيقونة	
تطبيق نسق على الشريحة	
إدراج صورة من جهاز الحاسب الخاص بك	
إضافة رأس وتذييل الصفحة	
يسمح لك بمعاينة الشرائح بشكل أصغر	



السؤال الثاني:

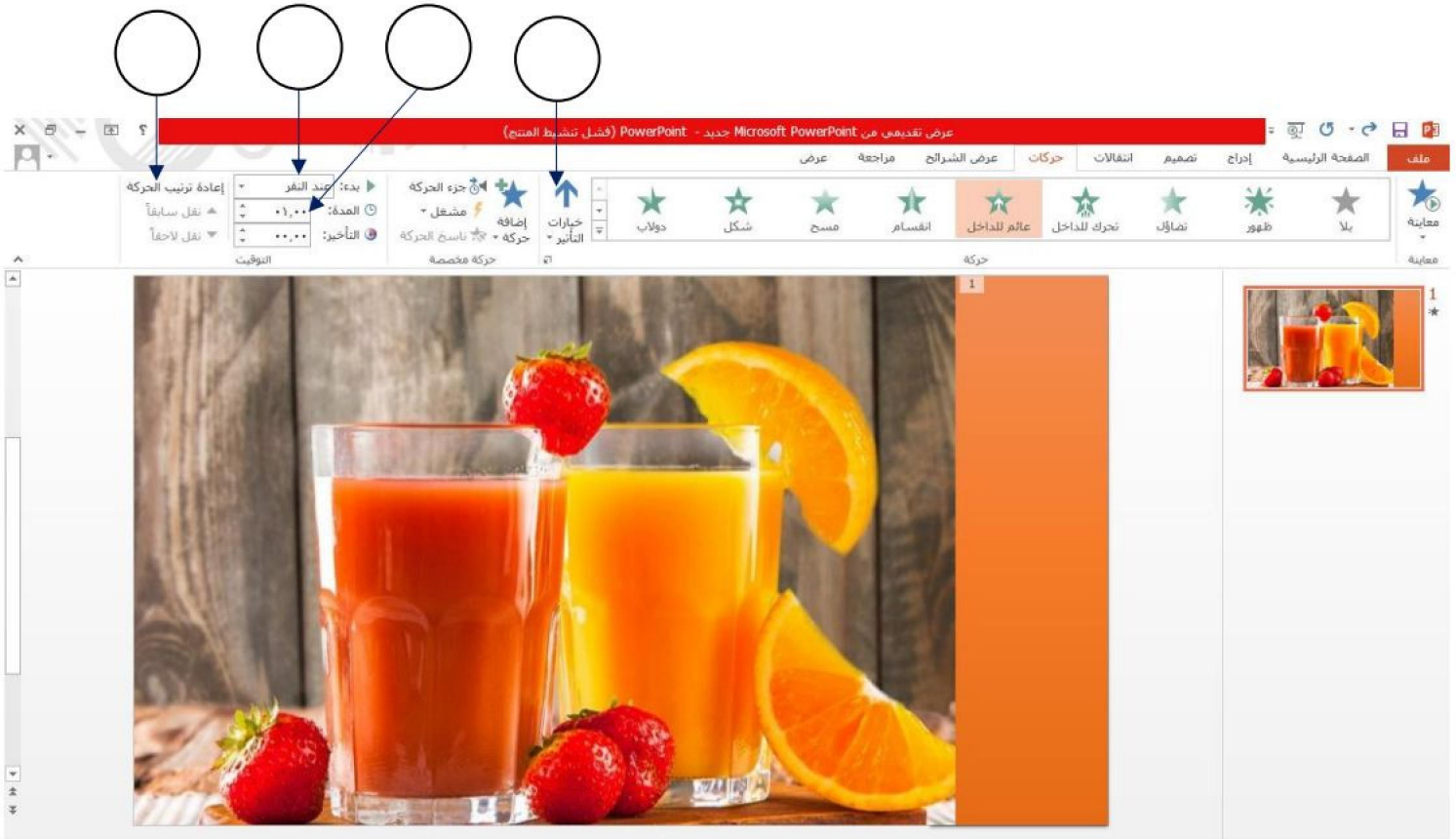
1

حددي الجملة الصحيحة والخاطئة فيما يلي:		
الجملة خاطئة	الجملة صحيحة	
		1- يتم تطبيق نفس التذييل على جميع الشرائح
		2- طريقة العرض "فارز الشرائح" هو العرض الأساسي للبرنامج
		3- يمكن تحديد مدة الانتقال
		4- لا يمكن تخصيص رسم SmartArt أو مخطط

السؤال الثالث: من خلال الخيارات المتاحة أمامك أكتبي رقم كل خيار في المربع المناسب في الصورة التالية:

1

(1) عرض المزيد من الخيارات حول تأثير معين.	(3) تغيير الترتيب الذي ستظهر به تأثيرات الحركة
(2) بدء حركة بعد الضغط على عنصر معين في الشريحة.	(4) تعيين المدة التي تستغرقها الحركات



# نموذج الإجابة

جدول الأجابات:							
(8)	(7)	(6)	(5)	(4)	(3)	(2)	(1)
د	ج	د	ج	د	أ	ب	ب

السؤال المساعد	الأختيار	(ب)
1	3	التوقيت
2		الحركات
3	1	السمات
4	2	العادي
	4	فازر الشرائح

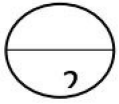
صح
خطأ
صح
صح
خطأ
خطأ
صح
خطأ

وظيفة الأيقونة	
(3)	تطبيق نسق على الشريحة
(1)	إدراج صورة من جهاز الحاسب الخاص بك
(4)	إضافة رأس وتذييل الصفحة
(2)	يسمح لك بمعاينة الشرائح بشكل أصغر

الجملة خاطئة	الجملة صحيحة	حددي الجملة الصحيحة والخاطئة فيما يلي:
	*	1- يتم تطبيق نفس التذييل على جميع الشرائح
*		2- طريقة العرض "فازر الشرائح" هو العرض الأساسي للبرنامج
	*	3- يمكن تحديد مدة الانتقال
*		4- لا يمكن تخصيص رسم SmartArt او مخطط



### سؤال مساعد

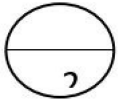


أسم الطالبة: ..... الصف: ( )

صلي العمود ( أ ) بما يناسبة من العمود ( ب ):

( أ )	الأختيار	( ب )
1	هي مجموعة من الألوان والخطوط التي يمكنك استخدامها كقالب في العرض التقديمي	التوقيت
2	طريقة العرض الافتراضية في برنامج بوربوينت	الحركات
3	إذا كنت تريد أن يظهر العنصر تلقائياً عند عرض الشريحة ستحتاج إلى ضبط	السمات
4	طريقة عرض نتيج لك مشاهدة الشرائح بحجم أصغر	العادي
		فارز الشرائح

### سؤال مساعد

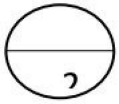


أسم الطالبة: ..... الصف: ( )

صلي العمود ( أ ) بما يناسبة من العمود ( ب ):

( أ )	الأختيار	( ب )
1	هي مجموعة من الألوان والخطوط التي يمكنك استخدامها كقالب في العرض التقديمي	التوقيت
2	طريقة العرض الافتراضية في برنامج بوربوينت	الحركات
3	إذا كنت تريد أن يظهر العنصر تلقائياً عند عرض الشريحة ستحتاج إلى ضبط	السمات
4	طريقة عرض نتيج لك مشاهدة الشرائح بحجم أصغر	العادي
		فارز الشرائح

### سؤال مساعد



أسم الطالبة: ..... الصف: ( )

صلي العمود ( أ ) بما يناسبة من العمود ( ب ):

( أ )	الأختيار	( ب )
1	هي مجموعة من الألوان والخطوط التي يمكنك استخدامها كقالب في العرض التقديمي	التوقيت
2	طريقة العرض الافتراضية في برنامج بوربوينت	الحركات
3	إذا كنت تريد أن يظهر العنصر تلقائياً عند عرض الشريحة ستحتاج إلى ضبط	السمات
4	طريقة عرض نتيج لك مشاهدة الشرائح بحجم أصغر	العادي
		فارز الشرائح